


1	(1) _____	(2) _____	(7)	
	(3) _____	(4) $x =$ _____		
	(5) $a =$ _____	(6) $y =$ _____		
	(8) _____	(9) およそ _____ 個		

2	(1) _____	(2)	<table border="1" style="width: 100%; border-collapse: collapse;"> <tr> <td style="width: 15%; padding: 2px;">記号</td> <td style="width: 15%; padding: 2px;">方程式</td> </tr> <tr> <td style="padding: 2px;">土地の縦の長さ</td> <td style="padding: 2px;">_____ m</td> </tr> </table>	記号	方程式	土地の縦の長さ	_____ m	※(1)2点/(2)2点×2	※2点×9
	記号		方程式						
土地の縦の長さ	_____ m								

3	(1) (_____ , _____) (_____ , _____)	(2)	(説明)
			※(1)2点/(2)4点

4	(1) _____ 分	(3)	(解答)
	(2) ア _____ イ _____ ウ _____		
	通話時間が _____ 分 をこえたときから		※(1)2点/(2)2点/(3)5点

5	(1) ① _____	(3)	(証明)
	(2) ② _____		
	③ _____		
	(4) _____ cm^3		

6	(1) _____	(2) _____ cm^3	(3)	_____ cm
	※(1)2点/(2)3点/(3)4点			

得点	
----	--

1	問1		問2	あ	う	
	問3	(1)	(2)	日本から来た		
	問4	㊶		㊷		
	問5	記号		内容		

※問1：2点／問2：2点／問3：(1)1点・(2)2点／問4：2点×2／問5：記号1点・内容2点

2	問1	㊸		㊹	
	問2				

※3点×2

3	問1		問2	
	問3	(1)		
		(2)		

※問1：2点／問2：2点／問3：3点×2

4	問1		問2	
	問3			
	問4			
	問5	記号	理由	

※問1：1点／問2：1点／問3：3点／問4：3点／問5：2点

5	問1	国会	㊺	㊻
	問2			
	問3			
	問4	税の負担を		
	問5	㊼	㊽	
	問6	日本は、他国と比べて		

※問1：2点／問2：3点／問3～問5：2点×3／問6：3点

6	A		得点	
	B			
	C			

※2点×3

1

問1				
問2	ア		イ	() と ()
問3	P	Q	R	

※問1：2点/問2：ア：1点・イ：2点/問3：2点

2

問1		問2		問3	名称	番号
問4						

※2点×4

3

問1	ア	イ		
問2	(1)		(2)	g
問3	図4 $2\text{Cu} + () \rightarrow ()$			※2点×4

4

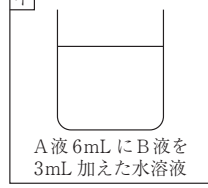
問1	色	問2		問3	①	②
----	---	----	--	----	---	---

5

問1				
問2	①	②	X	Y
問3				

問4

イ



A液 6mL に B液を
3mL 加えた水溶液

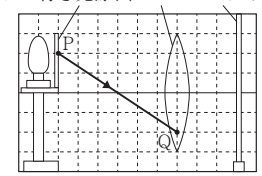
※2点×4 ※問1：1点/問2～問4：2点×3

6

問1	名称	
問2	理由	
問3	内容	
	①	②

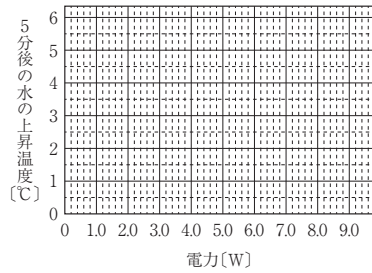
※問1：2点/問2：2点/問3：3点

7

問1	
問2	内容 数値
問3	<p>図2</p> <p>フィルター付き光源凸レンズAスクリーン</p> 

※問1：1点/問2：3点/問3：2点

8

問1	
問2	<p>図3</p> <p>5分後の水の上昇温度 [°C]</p>  <p style="text-align: center;">電力[W]</p>
問3	<p>内容</p> <p>(1) J</p> <p>(2)</p>
問4	<p>①</p> <p>②</p>
得点	

※問1：1点/問2：3点/問3：(1)3点・(2)1点/問4：1点

